

Bomen, kruistabellen, verzamelingen en stochasten: Kansrekening in de 2^{de} en 3^{de} graad

Johan Deprez en Gilberte Verbeeck

johan.deprez@uitwiskeling.be en gilberte.verbeeck@uitwiskeling.be

slides: zie syllabus (met kadertjes) en digitaal ('zonder' kadertjes)

Inleiding



Wie zijn wij?



Bomen, kruistabellen, verzamelingen en stochasten: Kansrekening in de 2^{de} & 3^{de} graad



Kennismaking: wie zijn jullie?

- D – D/A – A?
 - 2^{de} graad – 3^{de} graad?
 - Ervaring met kansbomen?
 - Ervaring met kruistabellen?
-
- Afspraak: als je voorbeeld kent → zwijgen bij groepswork en observeren

UITWISKELING



35/3 Teltechnieken



33/2 Eén probleem drie representatie



34/2 Probleemoplossend denken




36/4 Besmettingsziekten



41/1 Bomen, kruistabellen...


zie digitale syllabus



40/3 Spiraalpak: niet meer voor kansen



18/4 Bayes in kansbomen



21/1 Wiskunde en biologie

De aanleiding: nieuwe minimumdoelen

- De leerlingen lossen telproblemen op met behulp van boomdiagrammen en venndiagrammen; met kenniselementen: somregel, productregel, complementregel (2de graad D 06.17 en D/A 06.15);
- De leerlingen bepalen kansen met behulp van kruistabellen, boomdiagrammen en de wet van Laplace; met kenniselement: verband tussen relatieve frequentie en kans (3de graad D 06.13);
- De leerlingen bepalen kansen met behulp van boomdiagrammen en met de wet van Laplace; met kenniselement: verband tussen relatieve frequentie en kans (3de graad D/A 06.06).

Kansbomen en kruistabellen

2 voorbeelden: 2 groepen – maak boomdiagram

- Voorbeeld 1 (start groep 1):**
 - 6 kaarten uit een kaartspel: Harten 2, H5, H8, HDame, Schoppen Aas en SDame
 - Trek 2 kaarten zonder ze terug te leggen
- Voorbeeld 2 (start groep 2):**

In een bedrijf kiezen alle werknemers één van de drie mobiliteitsformules:

- een elektrische fiets;
- een abonnement op het openbaar vervoer;
- een abonnement op autodelen.

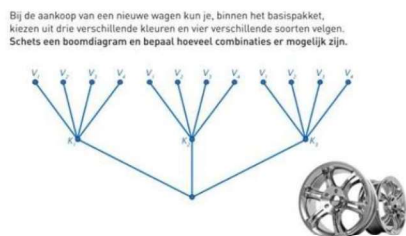
Van de werknemers die dichtbij wonen, dat is op minder dan 10 km van het bedrijf, kiezen er 72 voor de eerste formule, 16 voor de tweede en 12 voor de derde.

Bij de werknemers die veraf wonen, kiezen er 20 voor de eerste formule, 24 voor de tweede en 16 voor de derde.

Boomdiagram: terminologie

Terminologie:

- Boomdiagram of Telboom of Kansboom
- Benoem in elke boom:
 - Wortel
 - Knopen
 - Takken
 - Bladeren
 - Generatie



Boomdiagram: terminologie

Voorbeeld boomdiagram:

In een bedrijf kiezen alle werknemers één van de drie mobiliteitsformules:

- een elektrische fiets;
- een abonnement op het openbaar vervoer;
- een abonnement op autodelen.

Van de werknemers die dichtbij wonen, dat is op minder dan 10 km van het bedrijf, kiezen er 72 voor de eerste formule, 16 voor de tweede en 12 voor de derde.

Bij de werknemers die veraf wonen, kiezen er 20 voor de eerste formule, 24 voor de tweede en 16 voor de derde.

Terminologie:

- Benoem in de boom:
 - Wortel
 - Knopen
 - Takken
 - Bladeren
 - Generatie
- Geen telboom
- Geen productregel

Telboom: terminologie

Voorbeeld telboom:

- 6 kaarten uit een kaartspel: H2, H5, H8, HD, SA en SD
- Trek 2 kaarten zonder ze terug te leggen
- Aantal mogelijkheden?

Terminologie:

- Benoem in de boom:
 - Wortel
 - Knopen
 - Takken
 - Bladeren
 - Generatie
- Telboom (vb. van boomdiagram)
- Niet vereenvoudigd of wel – verloren informatie?
- Productregel

Didactische tips

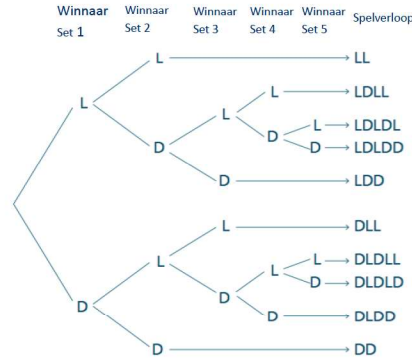
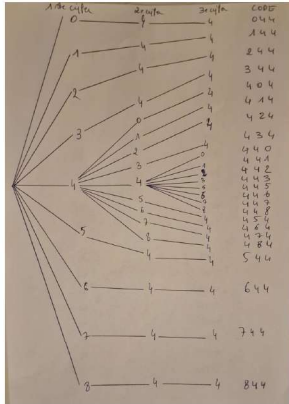
Voorbeeld kaarten is geen goed voorbeeld

- Niet generiek, dus mag zeker niet het enige voorbeeld zijn
- Niet vereenvoudigde telboom – aversie voor wiskundig getalenteerde leerlingen
- Niet altijd leefwereld leerlingen, noch realistisch

Hoe probleemoplossend denken aanleren?

- Start van een probleem (zoals hier)
- Inwerken in voorbeeld (stok kaarten voorradig – leerlingen laten trekken, vraagjes bij mobiliteitsprobleem)
- Differentiëren

Generieke voorbeelden van telbomen



2 voorbeelden: 2 groepen – maak kansboom bij probleem

Voorbeeld 1:

- 6 kaarten uit een kaartspel: Harten 2, H5, H8, HDame, Schoppen Aas en SDame
- Trek achtereenvolgens 2 kaarten zonder ze terug te leggen en let enkel op de kleur

Voorbeeld 2:

In een bedrijf kiezen alle werknemers één van de drie mobiliteitsformules:

- 1 een elektrische fiets;
- 2 een abonnement op het openbaar vervoer;
- 3 een abonnement op autodelen.

Van de werknemers die dichtbij wonen, dat is op minder dan 10 km van het bedrijf, kiezen er 72 voor de eerste formule, 16 voor de tweede en 12 voor de derde.

Bij de werknemers die veraf wonen, kiezen er 20 voor de eerste formule, 24 voor de tweede en 16 voor de derde.

Doe alle werknemers in een pot en trek er willekeurig 1 werknemer uit

Kansen berekenen: los de vragen bij jouw vb op

Vb 1: Trek 2 kaarten zonder terugleggen uit 6 (4H+2S) en let enkel op kleur

Wat is de kans

1. om als 1^{ste} kaart een harten kaart te trekken?
2. om als 2^{de} kaart een schoppen te trekken als de eerste kaart een harten was?
3. om eerst een schoppen kaart en dan een harten kaart te trekken
4. om als 2^{de} kaart een harten te trekken (dus zonder dat je weet wat de 1^{ste} kaart is)?
5. op 1 schoppen en 1 harten, ongeacht de volgorde waarin ze getrokken worden?
6. dat je een schoppen kaart als eerste trok als je weet dat de tweede kaart die je trok een harten was?

Vb 2: Trek 1 werknemer uit een pot van alle werknemers

Wat is de kans dat

1. de getrokken werknemer iemand is die voor formule 2 gekozen heeft?
2. de getrokken werknemer iemand is die dichtbij woont en voor formule 2 gekozen heeft?
3. een werknemer die voor formule 2 gekozen heeft dichtbij woont?
4. een werknemer veraf woont of voor formule 1 koos?

Van telboom naar kansboom bij voorbeeld 1

Voorbeeld kansboom:

- Trek 2 kaarten zonder terugleggen uit 6, let enkel op kleur

Wat is de kans

1. om als 1^{ste} kaart een harten kaart te trekken?
2. om als 2^{de} kaart een schoppen te trekken als de eerste kaart een harten was?
3. om eerst een schoppen kaart en dan een harten kaart te trekken
4. om als 2^{de} kaart een harten te trekken (dus zonder dat je weet wat de 1^{ste} kaart is)?
5. op 1 schoppen en 1 harten, ongeacht de volgorde waarin ze getrokken worden?
6. dat je een schoppen kaart als eerste trok als je weet dat de tweede kaart die je trok een harten was?

Terminologie:

- Kansboom** (i.p.v. boomdiagram) vertrekt vanuit vereenvoudigde telboom
- Bij de takken schrijven we kansen.
- De bladeren geven nu kansen = productregel


Van telboom naar kansboom bij voorbeeld 2

▪ Voorbeeld kansboom:

- Werknemers wonen dichtbij of veraf en kiezen voor één van de drie mobiliteitsformules
- **Wat is de kans dat**
 1. de getrokken werknemer iemand is die voor formule 2 (abon Openbaar Vervoer) gekozen heeft?
 2. de getrokken werknemer iemand is die dichtbij woont en voor formule 2 gekozen heeft?
 3. een werknemer die voor formule 2 gekozen heeft dichtbij woont?
 4. een werknemer veraf woont of voor formule 1 (Elektrische Fiets) koos?

▪ Kansboom opstellen in stappen:

1. Gegevens voorstellen in een boom
2. Aantal werknemers dat dichtbij en veraf woont tellen en hieruit totaal aantal bepalen.



17

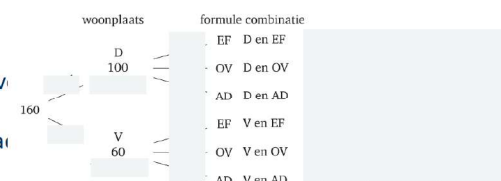
Van telboom naar kansboom bij voorbeeld 2

▪ Voorbeeld kansboom:

- Werknemers wonen dichtbij of veraf en kiezen voor één van de drie mobiliteitsformules
- **Wat is de kans dat**
 1. de getrokken werknemer iemand is die voor formule 2 (abon Openbaar Vervoer) gekozen heeft?
 2. de getrokken werknemer iemand is die dichtbij woont en voor formule 2 gekozen heeft?
 3. een werknemer die voor formule 2 gekozen heeft dichtbij woont?
 4. een werknemer veraf woont of voor formule 1 (Elektrische Fiets) koos?

▪ Kansboom opstellen in stappen:

1. Gegevens voorstellen in een boom
2. Aantal werknemers dat dichtbij en v en hieruit totaal aantal bepalen.
3. Kansen bepalen en bij takken en bla





Van telboom naar kansboom bij voorbeeld 2

▪ Voorbeeld kansboom:

- Werknemers wonen dichtbij of veraf en kiezen voor één van de drie mobiliteitsformules
- **Wat is de kans dat**
 1. de getrokken werknemer iemand is die voor formule 2 (abon Openbaar Vervoer) gekozen heeft?
 2. de getrokken werknemer iemand is die dichtbij woont en voor formule 2 gekozen heeft?
 3. een werknemer die voor formule 2 gekozen heeft dichtbij woont?
 4. een werknemer veraf woont of voor formule 1 (Elektrische Fiets) koos?

▪ Oplossingen




Kansen berekenen vanuit boomdiagram voorbeeld 2

▪ Voorbeeld boomdiagram:

- Werknemers wonen dichtbij of veraf en kiezen voor één van de drie mobiliteitsformules
- **Wat is de kans dat**
 1. de getrokken werknemer iemand is die voor formule 2 (abon Openbaar Vervoer) gekozen heeft?
 2. de getrokken werknemer iemand is die dichtbij woont en voor formule 2 gekozen heeft?
 3. een werknemer die voor formule 2 gekozen heeft dichtbij woont?
 4. een werknemer veraf woont of voor formule 1 (Elektrische Fiets) koos?

▪ oplossingen



Productregel

Productregel

- één naam, maar in feite verschillende regels
 - enerzijds: productregel voor aantallen in vereenvoudigde telbomen
 - anderzijds: productregel voor kansen in kansbomen
- we illustreren dit aan de hand van het voorbeeld met de kaarten
 - 2 kaarten trekken zonder teruglegging uit boek van 6 kaarten: H2, H5, H8, HD, SA, SD

Productregel voor aantallen

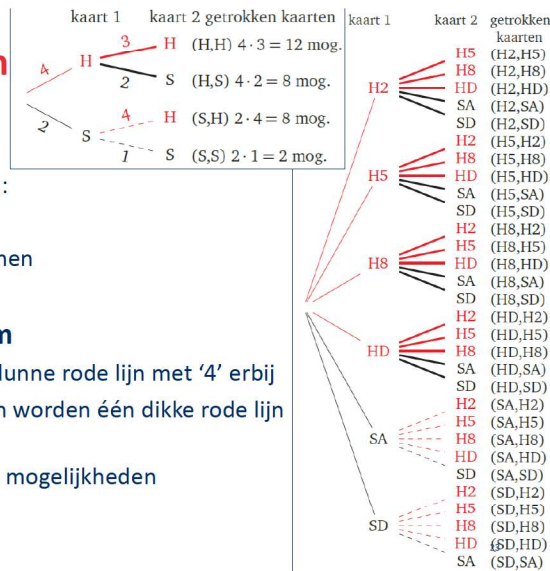
van telboom ...

mogelijkheden om (H,H) te trekken:

- 4 dunne rode lijnen die ...
- ... elk vertakken in 3 dikke rode lijnen
- totaal: $4 \cdot 3$ mogelijkheden

... naar vereenvoudigde telboom

- 4 dunne rode lijnen worden één dunne rode lijn met '4' erbij
- 4 pakketjes van 3 dikke rode lijnen worden één dikke rode lijn met een '3' erbij
- **productregel met aantallen:** $4 \cdot 3$ mogelijkheden



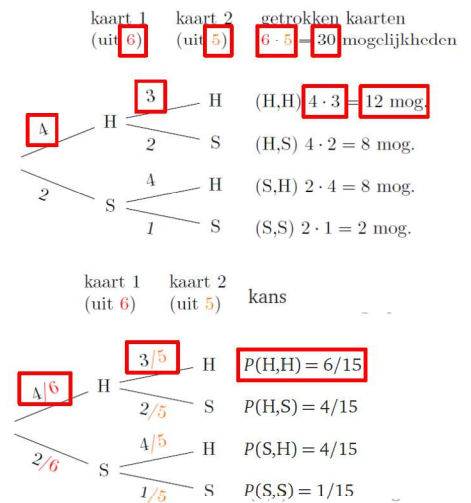
Productregel voor kansen

van vereenvoudigde telboom ...

- productregel met aantallen
- bv. aantal mogelijkheden voor (H,H) is $4 \cdot 3$

... naar kansboom

- kans op (H,H) =
- $= \frac{12}{30} = \frac{4}{5} \cdot \frac{3}{5}$
- = product van de kansen op de takken
- productregel voor kansen



(Kruis)tabellen

2 voorbeelden: maak tabel met aantal mogelijkheden

Je mag tip vragen

Voorbeeld 2: Stel de gegevens voor in een tabel

In een bedrijf kiezen alle werknemers één van de drie mobiliteitsformules:

- 1 een elektrische fiets;
- 2 een abonnement op het openbaar vervoer;
- 3 een abonnement op autodelen.

Van de werknemers die dichtbij wonen, dat is op minder dan 10 km van het bedrijf, kiezen er 72 voor de eerste formule, 16 voor de tweede en 12 voor de derde.

Bij de werknemers die veraf wonen, kiezen er 20 voor de eerste formule, 24 voor de tweede en 16 voor de derde.

Voorbeeld 1:

- 6 kaarten uit een kaartspel: Harten 2, H5, H8, HDame, Schoppen Aas en SDame
- Trek 2 kaarten zonder ze terug te leggen en let enkel op kleur.
- Probeer een gelijkaardige tabel op te stellen voor dit voorbeeld.

2 voorbeelden: tip = vul gegevens in in onderstaande tabel

- | | | | | | |
|--|--|--|--|--|--|
| | | | | | |
| | | | | | |
| | | | | | |
| | | | | | |
| | | | | | |
| | | | | | |
- | | | | | | |
|--|--|--|--|--|--|
| | | | | | |
| | | | | | |
| | | | | | |
| | | | | | |
| | | | | | |
| | | | | | |


Kruistabellen: oplossing voorbeelden

Vb 1: 2 kaarten zonder terugleggen uit 4 H en 2 S, let enkel op kleur


Vb 2:

Van kruistabellen met frequenties naar kansen

▪ Voorbeeld 1:



▪ Voorbeeld 2:



Kansen berekenen bij kruistabellen




▪ Vb 2: Trek 1 werknemer uit een pot van alle werknemers

▪ Wat is de kans dat

1. de getrokken werknemer iemand is die voor formule 2 gekozen heeft? 0,25
2. de getrokken werknemer iemand is die dichtbij woont en voor formule 2 gekozen heeft? 0,1
3. een werknemer die voor formule 2 gekozen heeft dichtbij woont? $\frac{0,1}{0,25} = 0,4$
4. een werknemer veraf woont of voor formule 1 koos? $0,375 + 0,45 = 0,825$

Kansen berekenen bij kruistabellen



▪ Vb 1: Trek 2 kaarten zonder terugleggen uit 6 (4H+2S) en let enkel op kleur

▪ Wat is de kans

1. om als 1^{ste} kaart een harten kaart te trekken? $P(H,X) = \frac{2}{3}$
2. om als 2^{de} kaart een schoppen te trekken als de eerste kaart een harten was? $\frac{\frac{4}{15}}{\frac{2}{3}} = \frac{2}{5}$
3. om eerst een schoppen kaart en dan een harten kaart te trekken? $P(S,H) = \frac{4}{15}$
4. om als 2^{de} kaart een harten te trekken (dus zonder dat je weet wat de 1^{ste} kaart is)? $P(X,H) = \frac{2}{3}$
5. op 1 schoppen en 1 harten, ongeacht de volgorde waarin ze getrokken worden? $P(S,H) + P(H,S) = \frac{4}{15} + \frac{4}{15} = \frac{8}{15}$
6. dat je een schoppen kaart als eerste trok als je weet dat de tweede kaart die je trok een harten was? $\frac{\frac{4}{15}}{\frac{2}{3}} = \frac{2}{5}$

Uitgebreide kansboom

Voorbeeld

Voorbeeld

Borstkanker is de meest voorkomende vorm van kanker bij vrouwen. Omdat deze aandoening beter bestreden kan worden naarmate de kanker vroeger wordt ontdekt, wordt aangeraden dat vrouwen regelmatig een mammografie laten uitvoeren.



Zo'n test is echter niet onfeilbaar. We nemen hieronder aan dat de mammografie slechts bij 90 % van de vrouwen met borstkanker een 'positief' resultaat oplevert, dat wil zeggen dat er kanker wordt gedetecteerd⁵. Bij vrouwen zonder borstkanker is de kans op een verkeerdelijk positief resultaat 5 %. Verder nemen we aan dat ongeveer 2 % van de vrouwen tussen 40 en 50 borstkanker ontwikkelt⁶.

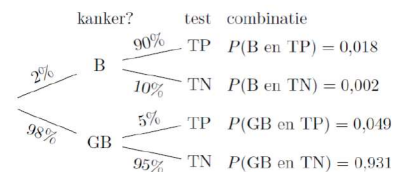
Stel nu dat een willekeurige vrouw tussen 40 en 50 een positief testresultaat krijgt na zo'n mammografie. Wat is de kans dat ze borstkanker heeft?

uit: Delta
Nova 5/6
Kansrekenen
3/4

33

Voorbeeld: twee oplossingen

met een 'gewone' kansboom

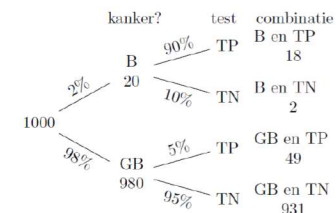


$$P(B \text{ als } TP) = \frac{P(B \text{ en } TP)}{P(B \text{ en } TP) + P(GB \text{ en } TP)}$$

$$= \frac{0,018}{0,018 + 0,049} = 0,268 \dots \approx 0,27$$



een kansboom met een extra'tje



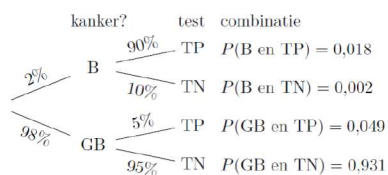
'gedachtenexperiment':

- (fictieve) groep van 1000 vrouwen
- doe alsof zij zich exact gedragen zoals de kansen aangeven

34

Voorbeeld: twee oplossingen

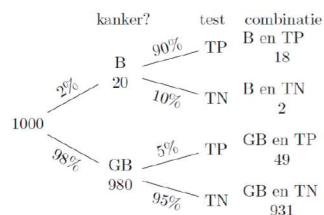
met een 'gewone' kansboom



$$P(B \text{ als } TP) = \frac{P(B \text{ en } TP)}{P(B \text{ en } TP) + P(GB \text{ en } TP)}$$

$$= \frac{0,018}{0,018 + 0,049} = 0,268 \dots \approx 0,27$$

een kansboom met een extra'tje



$P(B \text{ als } TP)$



35



Twee oplossingen: voorbeeld

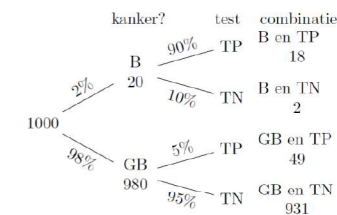
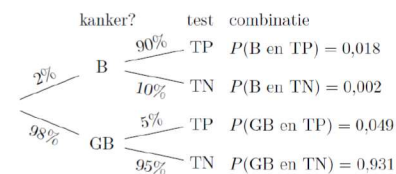
Vrij grote kans op vals positief...

Wordt de kans op vals positief groter of juist kleiner als de prevalentie van borstkanker ...

- ... lager is (bv. 0,5% i.p.v. 2%)?



- ... hoger is (bv. 8% i.p.v. 2%)?



36



Uitgebreide kansboom

- (onze) benaming: uitgebreide kansboom
- redeneren met aantallen (natuurlijke getallen) ...
- ... is toegankelijker dan ...
- redeneren met kansen (breuken, percentages, decimale getallen)
- Dit wordt ondersteund door vakdidactisch onderzoek!
- Heb je gemerkt dat we dit eigenlijk al gedaan hebben (zie bv. slide 20)

Uitgebreide kansboom

- Geen verplichte leerinhoud, maar erg nuttig om dit in de klas te gebruiken en als tip mee te geven met leerlingen!
- disclaimer
 - het is een gedachtenexperiment met 'ideale' uitkomsten;
 - het blijft belangrijk dat leerlingen weten dat er bij een echt kansexperiment variabiliteit optreedt in de uitkomsten!

De stap naar verzamelingen en stochastische veranderlijken

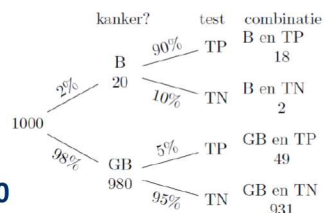
De stap naar verzamelingen en stochastische veranderlijken

- kansrekening met verzamelingen
 - niet verplicht (of wel?: zie MD 'kansen ... met behulp van de regel van Laplace')
 - ... maar (zeker voor een deel) interessant voor iedereen
 - ... en is bekend bij alle (?) leraren
- kansrekening met stochastische veranderlijken
 - enkel verplicht voor specifieke eindtermen gevorderde wiskunde en/of statistiek
- tijdens deze nascholing
 - hoe hangt het allemaal aan elkaar?
 - vooral verzamelingen, slechts heel beperkt over stochastische veranderlijken
 - voor meer: zie digitale syllabus (artikel uit Uitwiskeling)

Van kansboom naar verzamelingen

- borstkanker-voorbeeld
- kansexperiment: we hebben een groep van 1000 vrouwen en trekken er willekeurig één uit
- tabel met alle vrouwen en hun 'kenmerken'
- de uitkomstenverzameling is

$$U = \{v001, v002, \dots, v1000\}$$

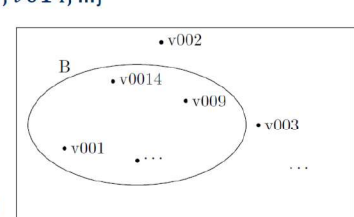


ID	kanker?	test?
v001	ja	positief
v002	neen	negatief
v003	neen	negatief
v004	neen	negatief
v005	neen	negatief
v006	neen	negatief
v007	neen	negatief
v008	neen	negatief
v009	ja	positief

Van kansboom naar verzamelingen

- uitkomstenverzameling $U = \{v001, v002, \dots\}$
- gebeurtenis = een verzameling van uitkomsten, meestal uitkomsten die aan een bepaalde eigenschap voldoen, bv.

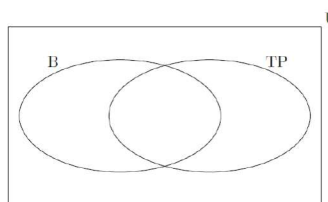
B = verzameling van alle vrouwen met kanker = $\{v001, v009, v014, \dots\}$



ID	kanker?	test?
v001	ja	positief
v002	neen	negatief
v003	neen	negatief
v004	neen	negatief
v005	neen	negatief
v006	neen	negatief
v007	neen	negatief
v008	neen	negatief
v009	ja	positief

Van kansboom naar verzamelingen

- andere gebeurtenissen: TP (test positief), GB (geen borstkanker), TN (test negatief)
- waar vind je GB, TN in de figuur?



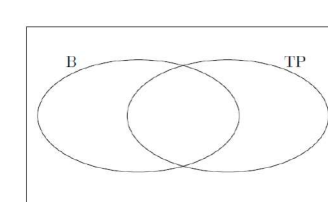
- benoem de vier gebieden in de figuur

- 'samengestelde' gebeurtenissen kun je nu noteren via bewerkingen met verzamelingen

Van kansboom naar verzamelingen

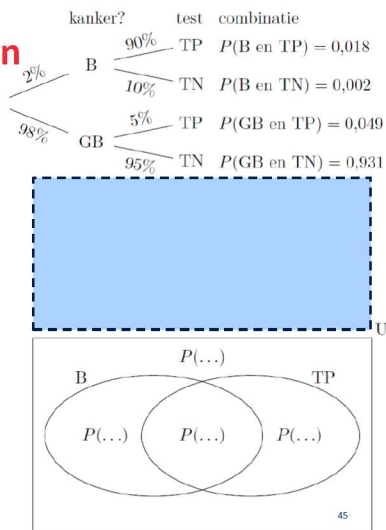
- er zijn nu twee manieren om samengestelde gebeurtenissen te benoemen

- als logische uitspraak
 - bv. de vrouw die we getrokken hebben, heeft borstkanker en testte positief
 - bv. de vrouw ... test niet positief
- met verzamelingen,
 - bv. $B \cap TP$,
 - bv. $TN = TP^c$



Van kansboom naar verzamelingen

- **kans** van een uitkomst: hier heeft elke uitkomst kans 1/1000
- **kans** van een gebeurtenis = som van de kansen van alle elementen
- vul de vier kansen in!



Van kansboom naar verzamelingen

- **we zijn hier heel voorzichtig tewerk gegaan**
 - kansexperiment is groep van 1000 vrouwen waaruit we willekeurig 1 vrouw trekken
 - ...
- **wordt meestal niet zo in detail gedaan**
 - ineens naar de vier gebeurtenissen met elk hun kans



De weg terug: van verzamelingen naar kruistabel

Vul in elke cel van de tabel de juiste kans in.

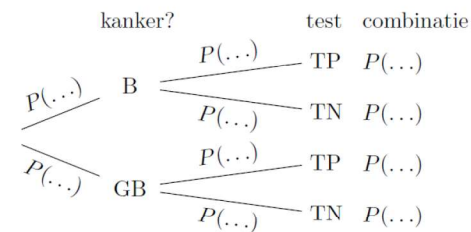
In vorige voorbeelden stonden de uitkomsten van het 'eerste' kansexperiment in de eerste kolom en nu staan ze in de eerste rij. Beide zijn OK!

	B	GB	totaal
TP	$P(\dots)$	$P(\dots)$	$P(\dots)$
TN	$P(\dots)$	$P(\dots)$	$P(\dots)$
tot.	$P(\dots)$	$P(\dots)$	$P(\dots)$



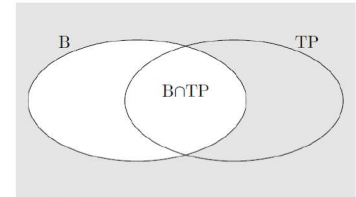
De weg terug: van kruistabel naar kansboom

- vul zoveel mogelijk kansen in
- **Twee vaststellingen**
 - de kansen op TP en op TN vind je niet als dusdanig in de kansboom, wel als je optelt
 - $P(TP) = P(TP \cap B) + P(TP \cap GB) = \dots$
 - $P(TN) = \dots$
 - de kansen op de tweede vertakking zijn voorwaardelijke kansen, bv. $P(TP|B)$



Voorwaardelijke kans

Voorwaardelijke kansen



bijvoorbeeld: $P(TP|B)$

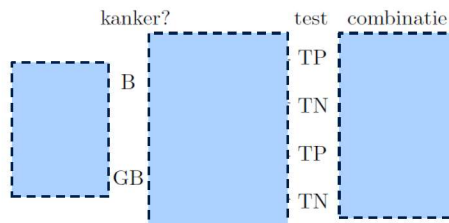
- we beperken ons tot de vrouwen die borstkanker hebben
- de kans dat bij zo'n vrouw de test een positief resultaat oplevert:

$$P(TP|B) = \frac{P(B \cap TP)}{P(B)}$$

- we hebben voordien al informeel met voorwaardelijke kansen gewerkt

De weg terug: van verzamelingen naar kansboom

- We vullen de kansboom nu verder aan!



- nieuwe formulering voor productregel, bv.

Kansboom versus kruistabel versus venndiagram



Welke kansen vind je rechtstreeks in ...?

	kansboom	kruistabel	venndiagram
$P(B), P(GB)$			
$P(TP), P(TN)$			
$P(B \cap TP), P(B \cap TN), P(GB \cap TP), P(GB \cap TN)$			
$P(TP B), P(TN B), P(TP GB), P(TN GB)$			
$P(B TP), P(B TN), P(GB TP), P(GB TN)$			

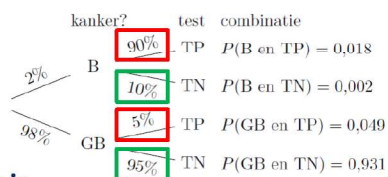
Kansboom versus kruistabel versus venndiagram

	kansboom	kruistabel	venndiagram
$P(B), P(GB)$			
$P(TP), P(TN)$			
$P(B \cap TP), P(B \cap TN), P(GB \cap TP), P(GB \cap TN)$			
$P(TP B), P(TN B), P(TP GB), P(TN GB)$			
$P(B TP), P(B TN), P(GB TP), P(GB TN)$			

- welke voorstelling is de beste?

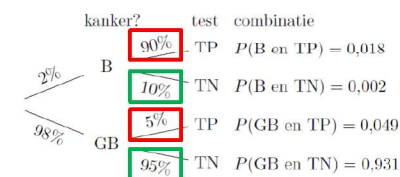


(On)afhankelijkheid in een kansboom



- de kans op een positieve (en negatieve) test is afhankelijk van het al dan niet ziek zijn
- gebeurtenissen TP en TN zijn afhankelijk van de gebeurtenissen B en GB
- hoe zouden de kansen op de takken van de tweede generatie moeten zijn opdat TP en TN onafhankelijk zouden zijn van B en GB?

(On)afhankelijke gebeurtenissen: definitie met verzamelingen



- definitie**
gebeurtenis A is onafhankelijk van gebeurtenis B als $P(A|B) = P(A)$, en afhankelijk in het andere geval
- hebben we deze definitie gebruikt bij het vaststellen van (on)afhankelijkheid bij de kansboom?

(On)afhankelijke gebeurtenissen in een kruistabel

- Eigenschap: A is onafhankelijk van B as $P(A \cap B) = P(A) \cdot P(B)$

asa $P(A|B) = P(A)$ asa $\frac{P(A \cap B)}{P(B)} = P(A)$

toegepast:

- is TP onafhankelijk van B ?
- neen! hoe zien we dit in de kruistabel?
- is $P(B \cap TP) = P(B) \cdot P(TP)$?

	B	GB	totaal
TP	$P(B \cap TP)$	$P(GB \cap TP)$	$P(TP)$
TN	$P(B \cap TN)$	$P(GB \cap TN)$	$P(TN)$
tot.	$P(B)$	$P(GB)$	$P(U) = 1$

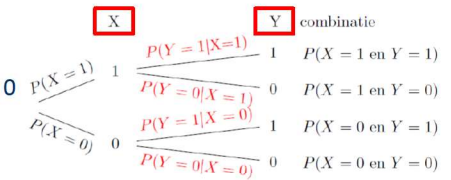


De stap naar stochastische veranderlijken

- willekeurig één vrouw trekken uit 1000
- twee stochastische veranderlijken X en Y

- als de vrouw borstkanker heeft, neemt X de waarde 1 aan, en anders 0
- als de test bij de vrouw een positief resultaat oplevert, neemt Y de waarde 1 aan, en anders 0

	$X = 1$	$X = 0$	totaal
$Y = 1$	$P(X = 1 \text{ en } Y = 1)$...	$P(Y = 1)$
$Y = 0$
tot.	$P(X = 1)$



Bedankt voor uw aandacht!
Vragen welkom!